

Écrire le nombre suivant.

Sur l'ardoise, écrire le nombre suivant un nombre choisi entre 59 et 79.
Faire le lien avec la famille à laquelle il appartient (famille de cinquante, etc...).

x3.



Trouver le nombre de dizaines.

Déterminer combien de dizaines il y a dans le résultat de ce calcul.

Expliciter les stratégies.


$$2 + 4 + 7 + 8 + 3 + 6 + 5$$

Dénombrer rapidement.

Faire le rappel de la synthèse de la séance 1.

1

Dénombrer rapidement :





n° 2 p.11

Dénombrer rapidement.

Faire une synthèse des propositions..

2

Dénombrer rapidement :



n° 1 p.11


Résoudre un problème.

PROBLÈMES

Fichier 1


1	2	3	4	5	6	7	8	9	10
11	12	13	14	15	16	17	18	19	20
21	22	23	24	25	26	27	28		

1




Je lis d'abord la question (en noir).
Je lis le texte du problème.
Le texte c'est comme une histoire.

2




Je me raconte l'histoire et j'essaie de comprendre ce qui se passe.
Je peux m'aider de la boîte à problèmes.

3



Quand j'ai bien compris ce qui se passe, je peux faire un dessin, écrire... pour trouver la réponse à la question.

4



Je peux alors écrire l'opération qui correspond à mon dessin puis répondre à la question en faisant une phrase.


PRÉNOM :

Ranger les nombres par famille.

Écrire au tableau quatre nombres de chacune des familles de 50, 60, 70 dans le désordre.

Ils copient les nombres au bon endroit.

Correction.



n° 1 p.12

1 Complète.

Famille de cinquante	Famille de soixante	Famille de soixante-dix

Faire une fleur numérique.

Choisir un nombre entre 60 et 79.

Jouer à « Dépasse pas 30 ».

