

Écrire les nombres dictés.

Sur l'ardoise, écrire en chiffre les nombres soixante-dix-huit, quatre-vingt-treize, quatre-vingt-quatre.



Calculer.

Faire des additions à trou du type : $2 + \dots = 5$

x 5.



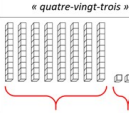
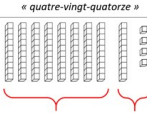
Découvrir les familles de nombres 80 et 90.


Réaliser le même travail que pour l'affiche réalisée en S5.

Ils disposent du matériel de numération. .


COMPRENDRE LE NOMBRE

1 Complète la fiche comme dans l'exemple.

J'entends	« quatre-vingt-trois »	« quatre-vingt-quatorze »
Je représente		
J'organise	8 dizaines et 3 unités $80 + 3$	8 dizaines et 1 dizaine et 4 unités 9 dizaines et 4 unités $90 + 4$
J'écris en chiffres	83	94

J'entends	« quatre-vingt-deux »	« quatre-vingt-onze »
Je représente avec des cubes 		
J'organise		
J'écris en chiffres		

J'entends	« quatre-vingt-sept »	« quatre-vingt-dix-neuf »
Je représente avec des cubes 		
J'organise		
J'écris en chiffres		



n° 1 p.18-19

Avancer un mini-fichier.